

### Контрольная работа № 1.

1 вариант.

- 1). Диагонали прямоугольника  $ABCD$  пересекаются в точке  $O$ ,  $\angle ABO = 36^\circ$ . Найдите  $\angle AOD$ .
- 2). Найдите углы прямоугольной трапеции, если один из ее углов равен  $20^\circ$ .
- 3). Стороны параллелограмма относятся как  $1 : 2$ , а его периметр равен  $30$  см. Найдите стороны параллелограмма.
- 4). В равнобокой трапеции сумма углов при большем основании равна  $96^\circ$ . Найдите углы трапеции.
- 5).\* Высота  $BM$ , проведенная из вершины угла ромба  $ABCD$  образует со стороной  $AB$  угол  $30^\circ$ ,  $AM = 4$  см. Найдите длину диагонали  $BD$  ромба, если точка  $M$  лежит на стороне  $AD$ .

2 вариант.

- 1). Диагонали прямоугольника  $MNKP$  пересекаются в точке  $O$ ,  $\angle MON = 64^\circ$ . Найдите  $\angle OMP$ .
- 2). Найдите углы равнобокой трапеции, если один из ее углов на  $30^\circ$  больше второго.
- 3). Стороны параллелограмма относятся как  $3 : 1$ , а его периметр равен  $40$  см. Найдите стороны параллелограмма.
- 4). В прямоугольной трапеции разность углов при одной из боковых сторон равна  $48^\circ$ . Найдите углы трапеции.
- 5).\* Высота  $BM$ , проведенная из вершины угла ромба  $ABCD$  образует со стороной  $AB$  угол  $30^\circ$ , длина диагонали  $AC$  равна  $6$  см. Найдите  $AM$ , если точка  $M$  лежит на продолжении стороны  $AD$ .

### Контрольная работа № 2.

1 вариант.

- 1). Сторона треугольника равна  $5$  см, а высота, проведенная к ней, в два раза больше стороны. Найдите площадь треугольника.
- 2). Катеты прямоугольного треугольника равны  $6$  и  $8$  см. Найдите гипотенузу и площадь треугольника.
- 3). Найдите площадь и периметр ромба, если его диагонали равны  $8$  и  $10$  см.
- 4).\* В прямоугольной трапеции  $ABCK$  большая боковая сторона равна  $3\sqrt{2}$  см, угол  $K$  равен  $45^\circ$ , а высота  $CH$  делит основание  $AK$  пополам. Найдите площадь трапеции.

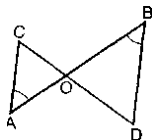
2 вариант.

- 1). Сторона треугольника равна  $12$  см, а высота, проведенная к ней, в три раза меньше высоты. Найдите площадь треугольника.
- 2). Один из катетов прямоугольного треугольника равен  $12$  см, а гипотенуза  $13$  см. Найдите второй катет и гипотенузу треугольника.
- 3). Диагонали ромба равны  $10$  и  $12$  см. Найдите его площадь и периметр.
- 4).\* В прямоугольной трапеции  $ABCD$  большая боковая сторона равна  $8$  см, угол  $A$  равен  $60^\circ$ , а высота  $BH$  делит основание  $AD$  пополам. Найдите площадь трапеции.

### Контрольная работа № 3.

1 вариант.

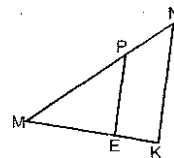
- 1). По рис.  $\angle A = \angle B$ ,  $CO = 4$ ,  $DO = 6$ ,  $AO = 5$ . Найти: а).  $OB$ ; б).  $AC : BD$ ; в).  $S_{AOC} : S_{BOD}$ .



- 2). В треугольнике  $ABC$  сторона  $AB = 4$  см,  $BC = 7$  см,  $AC = 6$  см, а в треугольнике  $MNK$  сторона  $MK = 8$  см,  $MN = 12$  см,  $KN = 14$  см. Найдите углы треугольника  $MNK$ , если  $\angle A = 80^\circ$ ,  $\angle B = 60^\circ$ .
- 3). Прямая пересекает стороны треугольника  $ABC$  в точках  $M$  и  $K$  соответственно так, что  $MK \parallel AC$ ,  $BM : AM = 1 : 4$ . Найдите периметр треугольника  $BMK$ , если периметр треугольника  $ABC$  равен  $25$  см.
- 4). В трапеции  $ABCD$  ( $AD$  и  $BC$  основания) диагонали пересекаются в точке  $O$ ,  $AD = 12$  см,  $BC = 4$  см. Найдите площадь треугольника  $BOC$ , если площадь треугольника  $AOD$  равна  $45$  см<sup>2</sup>.

2 вариант.

- 1). По рис.  $PE \parallel NK$ ,  $MP = 8$ ,  $MN = 12$ ,  $ME = 6$ . Найти: а).  $MK$ ; б).  $PE : NK$ ; в).  $S_{MEP} : S_{MKN}$ .



- 2). В  $\triangle ABC$   $AB = 12$  см,  $BC = 18$  см,  $\angle B = 70^\circ$ , а в  $\triangle MNK$   $MN = 6$  см,  $NK = 9$  см,  $\angle N = 70^\circ$ . Найдите сторону  $AC$  и угол  $C$  треугольника  $ABC$ , если  $MK = 7$  см,  $\angle K = 60^\circ$ .
- 3). Отрезки  $AB$  и  $CD$  пересекаются в точке  $O$  так, что  $\angle ACO = \angle BDO$ ,  $AO : OB = 2 : 3$ . Найдите периметр треугольника  $ACO$ , если периметр треугольника  $BOD$  равен  $21$  см.
- 4). В трапеции  $ABCD$  ( $AD$  и  $BC$  основания) диагонали пересекаются в точке  $O$ ,  $S_{AOD} = 32$  см<sup>2</sup>,  $S_{BOC} = 8$  см<sup>2</sup>. Найдите меньшее основание трапеции, если большее из них равно  $10$  см.

### Контрольная работа № 4.

1 вариант.

- 1). Средние линии треугольника относятся как  $2 : 2 : 4$ , а периметр треугольника равен  $45$  см. Найдите стороны треугольника.
- 2). Медианы треугольника  $ABC$  пересекаются в точке  $O$ . Через точку  $O$  проведена прямая, параллельная стороне  $AC$  и пересекающая стороны  $AB$  и  $BC$  в точках  $E$  и  $F$  соответственно. Найдите  $EF$ , если сторона  $AC$  равна  $15$  см.
- 3). В прямоугольном треугольнике  $ABC$  ( $\angle C = 90^\circ$ )  $AC = 5$  см,  $BC = 5\sqrt{3}$  см. Найдите угол  $B$  и гипотенузу  $AB$ .
- 4). В треугольнике  $ABC$   $\angle A = \alpha$ ,  $\angle C = \beta$ , сторона  $BC = 7$  см,  $BH$  – высота. Найдите  $AH$ .
- 5). В трапеции  $ABCD$  продолжения боковых сторон пересекаются в точке  $K$ , причем точка  $B$  – середина отрезка  $AK$ . Найдите сумму оснований трапеции, если  $AD = 12$  см.

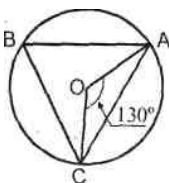
2 вариант.

- 1). Стороны треугольника относятся как  $4 : 5 : 6$ , а периметр треугольника, образованного его средними линиями, равен  $30$  см. Найдите средние линии треугольника.
- 2). Медианы треугольника  $MNK$  пересекаются в точке  $O$ . Через точку  $O$  проведена прямая, параллельная стороне  $MK$  и пересекающая стороны  $MN$  и  $NK$  в точках  $A$  и  $B$  соответственно. Найдите  $MK$ , если длина отрезка  $AB$  равна  $12$  см.
- 3). В прямоугольном треугольнике  $PKT$  ( $\angle T = 90^\circ$ ),  $PT = 7\sqrt{3}$  см,  $KT = 1$  см. Найдите угол  $K$  и гипотенузу  $KP$ .
- 4). В треугольнике  $ABC$   $\angle A = \alpha$ ,  $\angle C = \beta$ , высота  $BH$  равна  $4$  см. Найдите  $AC$ .
- 5). В трапеции  $MNKP$  продолжения боковых сторон пересекаются в точке  $E$ , причем  $EK = KP$ . Найдите разность оснований трапеции, если  $NK = 7$  см.

### Контрольная работа № 5.

1 вариант.

- 1).  $AB$  и  $AC$  – отрезки касательных, проведенных к окружности радиуса  $9$  см. Найдите длины отрезков  $AC$  и  $AO$ , если  $AB = 12$  см.
- 2). По рисунку  $\cup AB : \cup BC = 11 : 12$ .  
Найти:  $\angle BCA$ ,  $\angle BAC$ .
- 3). Хорды  $MN$  и  $PK$  пересекаются в точке  $E$  так, что  $ME = 12$  см,  $NE = 3$  см,  $PE = KE$ . Найдите  $PK$ .
- 4). Окружность с центром  $O$  и радиусом  $16$  см описана около треугольника  $ABC$  так, что угол  $OAB$  равен  $30^\circ$ , угол  $OCB$  равен  $45^\circ$ . Найдите стороны  $AB$  и  $BC$  треугольника.



2 вариант.

- 1).  $MN$  и  $MK$  – отрезки касательных, проведенных к окружности радиуса  $5$  см. Найдите  $MN$  и  $MK$ , если  $MO = 13$  см.
- 2). По рисунку  $\cup AB : \cup AC = 5 : 3$ .  
Найти:  $\angle BOC$ ,  $\angle ABC$ .
- 3). Хорды  $AB$  и  $CD$  пересекаются в точке  $F$  так, что  $AF = 4$  см,  $BF = 16$  см,  $CF = DF$ .
- 4). Окружность с центром  $O$  и радиусом  $12$  см описана около треугольника  $MNK$  так, что угол  $MON$  равен  $120^\circ$ , угол  $NOK$  равен  $90^\circ$ . Найдите стороны  $MN$  и  $NK$  треугольника.

