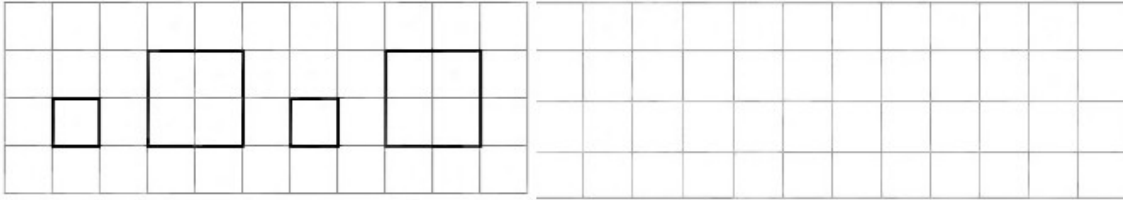



Контрольно-измерительные материалы
Контрольная работа № 1
Вариант 1

1. Смотри и продолжай:




2. Рассмотрите каждую пару квадратов. В верхнем квадрате поставлено несколько точек. Дорисуйте точки в нижнем квадрате, чтобы их было:

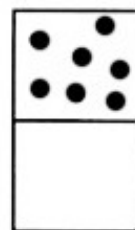
а) столько же



б) больше

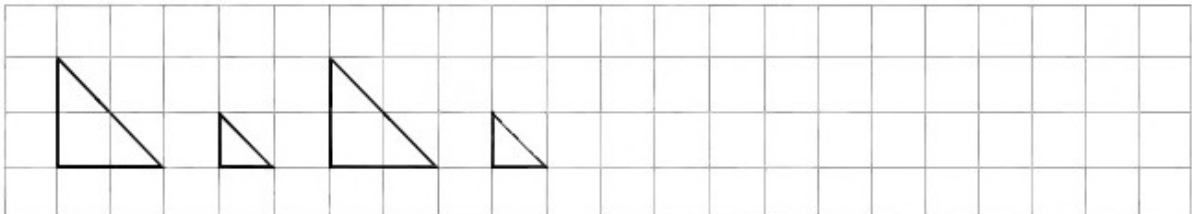


в) меньше




Вариант 2

1. Смотри и продолжай:




2. Рассмотрите каждую пару квадратов. В верхнем квадрате поставлено несколько точек. Дорисуйте точки в нижнем квадрате, чтобы их было:


а) столько же



б) больше



в) меньше



Контрольная работа № 2
Вариант 1

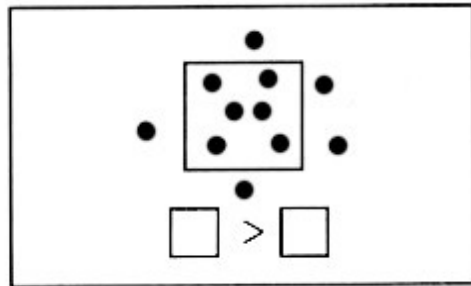
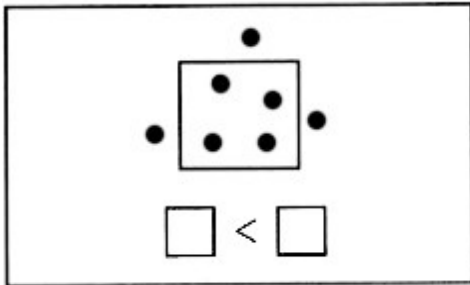
1. Какое число пропущено: 1, 2, 3, 5, 6? Запиши.

2. Реши примеры:

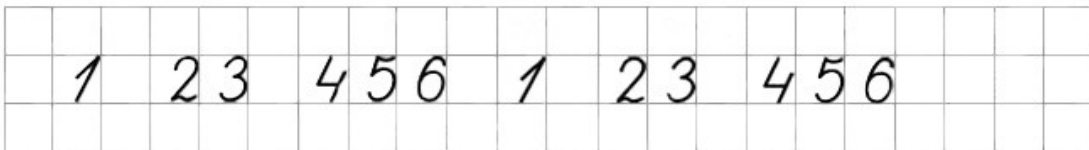
$$2 + 1 \quad 3 - 1$$

$$4 - 1 \quad 5 + 1$$

3. Сравни количество точек внутри и вне квадрата. Восстанови записи:



4. Смотри, пиши и продолжай:



Вариант 2

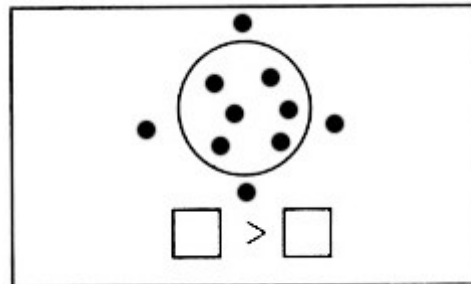
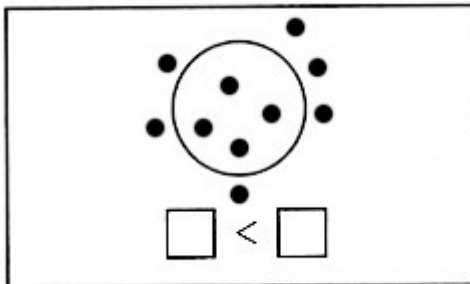
1. Какое число пропущено: 1, 2, 3, 4, 6? Запиши.

2. Реши примеры:

$$2 - 1 \quad 4 + 1$$

$$3 + 1 \quad 6 - 1$$

3. Сравни количество точек внутри и вне круга. Восстанови записи:



4. Смотри, пиши и продолжай:

$6 + 2$	$5 + 3$	$3 + 3 - 4$
$3 + 4$	$8 - 7$	$2 - 1 + 9$
$7 - 1$	$2 + 6$	$4 - 3 + 2$

5. У Маши было 7 открыток. Из них 2 открытки она подарила подруге. Сколько открыток осталось у Маши?

Контрольная № 4
Вариант 1

1. Измерь длину отрезка АБ:



2. Сравни:

3 см и $2 \text{ см} + 1 \text{ см}$

$6 \text{ см} - 3 \text{ см}$ и $6 \text{ см} - 2 \text{ см}$

3. Вычисли:

$5 + 2$ $6 - 2 + 3$

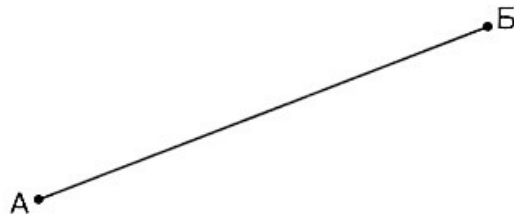
$9 - 4$ $7 + 3 - 4$

4. В одной коробке было 3 простых карандаша и столько же в другой коробке. Сколько простых карандашей было в двух коробках?

5. На кормушке клевали зернышки 4 воробья, а снегирей столько же, но без 3 птиц. Сколько снегирей было на кормушке?

Вариант 2

1. Измерь длину отрезка АБ:



2. Сравни:

4 см и $3 \text{ см} + 2 \text{ см}$

$8 \text{ см} - 2 \text{ см}$ и $8 \text{ см} - 3 \text{ см}$

3. Вычисли:

$7 - 3$ $9 - 2 + 4$

$5 + 4$ $4 + 3 - 2$

4. Вася нашел 4 еловые шишки и столько же сосновых. Сколько всего шишек нашел Вася?

5. В гараже стояли 3 легковые машины, а грузовых столько же и еще 2 машины. Сколько грузовых машин было в гараже?

Контрольная работа № 5
Вариант 1

1. Вычисли:


$$4 + 5 \quad 9 - 3 - 2$$

$$8 - 3 \quad 4 - 0 + 6$$

2. Сравни:

$$7 \text{ кг} - 5 \text{ кг} \text{ и } 9 \text{ кг} - 6 \text{ кг} \quad 2 \text{ см} + 6 \text{ см} \text{ и } 10 \text{ см} - 2 \text{ см}$$

3. Начерти отрезок на 3 см короче отрезка АБ:



4. Масса дыни 6 кг, а арбуза 4 кг. На сколько килограммов дыня тяжелее арбуза?

5. Света купила 2 тетради в клетку, а в линейку — на 5 тетрадей больше. Сколько всего тетрадей купила Света?

Вариант 2

1. Вычисли:

$$2 + 6 \quad 9 - 7 + 2$$

$$7 - 5 \quad 4 + 5 - 8$$

2. Сравни:

$$3 \text{ см} + 5 \text{ см} \text{ и } 10 \text{ см} - 4 \text{ см} \quad 9 \text{ кг} - 6 \text{ кг} \text{ и } 2 \text{ кг} + 2 \text{ кг}$$

3. Начерти отрезок на 2 см длиннее отрезка АБ:

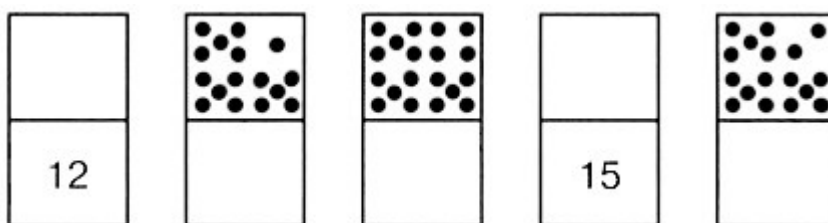


4. В банке было 3 кг варенья, а в кастрюле — 5 кг. На сколько килограммов варенья больше в кастрюле, чем в банке?

5. Мама купила 5 кг картофеля, а капусты на 2 кг меньше. Сколько всего килограммов овощей купила мама?

Контрольная работа № 6
Вариант 1

1. Дорисуй и допиши:



2. Выполни действия:

$$10 + 5 \quad 15 - 10 \quad 18 - 3 + 1$$

$$15 - 5 \quad 13 + 4 \quad 4 + 10 - 2$$

3. Запиши длину отрезка в сантиметрах:

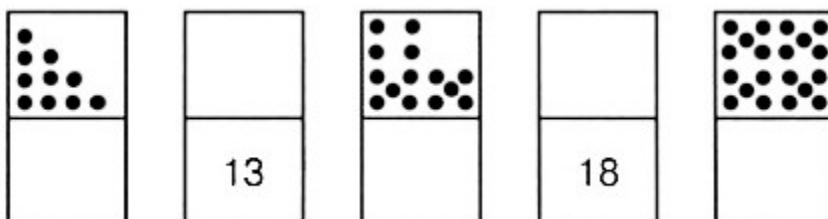


4. Мама испекла пирожки. За обедом съели 10 пирожков, а за ужином 6 пирожков. Сколько всего пирожков съели за обедом и за ужином вместе?

5. Во дворе школы играли 10 мальчиков. Потом пришли еще 5 мальчиков, а 3 мальчика ушли домой. Сколько мальчиков осталось во дворе?

Вариант 2

1. Дорисуй и допиши:



2. Выполни действия:

$$10 + 2 \quad 12 - 10 \quad 16 - 4 + 2$$

$$12 - 2 \quad 15 + 3 \quad 3 + 10 - 1$$

3. Запиши длину отрезка в сантиметрах:



4. Со склада стройматериалов на одной машине увезли 9 бревен, а на другой машине увезли 10 бревен. Сколько всего бревен увезли со склада на двух машинах?
5. В автобусе было 16 пассажиров. Потом на остановке 5 пассажиров вышли из автобуса, а 2 вошли в автобус. Сколько пассажиров стало в автобусе?

Контрольная работа № 7
Вариант 1

1. Заполни пропуски:

$$15 = 10 + \text{У} \quad 13 = 9 + \text{У}$$

$$12 = \text{У} + 2 \quad 16 = \text{У} + 8$$

2. Сравни:

1 дм 2 см и 11 см

16 см – 12 см и 1 дм – 7 см

3. Выполни действия:

$$6 + 9 \quad 18 - 7 \quad 4 + 8 - 11$$

$$14 - 13 \quad 20 - 16 \quad 12 + 3 - 9$$

4. Начерти отрезок длиной 1 дм 5 см.

5. В спортивной секции занимаются 8 девочек, а мальчиков на 4 больше. Сколько всего ребят занимаются в секции?

Вариант 2

1. Заполни пропуски:

$$14 + 10 + \text{У} \quad 17 = 8 + \text{У}$$

$$19 = \text{У} + 9 \quad 12 = \text{У} + 6$$

2. Сравни:

14 см и 1 дм 5 см

19 см – 5 см и 1 дм + 4 см

3. Выполни действия:

$$8 + 5 \quad 14 - 6 \quad 9 + 7 - 12$$

$$17 - 12 \quad 20 - 13 \quad 16 - 8 + 7$$

4. Начерти отрезок длиной 1 дм 2 см.

5. В саду растет 9 яблонь, а слив — на 2 дерева больше. Сколько всего яблонь и слив растет в саду?

ИТОГОВАЯ КОНТРОЛЬНАЯ РАБОТА
ЗА 1 КЛАСС
Вариант 1

1. Выполни действия:

$$6 + 10 \quad 15 - 11 \quad 13 + 7$$

$$18 - 10 \quad 5 + 9 \quad 17 - 8$$

2. Начерти квадрат со стороной 3 см.

3. Сравни:

$$13 \text{ кг и } 14 \text{ кг} \quad 3 \text{ л} + 8 \text{ л и } 11 \text{ л}$$

$$11 \text{ см и } 9 \text{ см} \quad 1 \text{ дм } 7 \text{ см и } 18 \text{ см}$$

4. Для детского сада купили 9 мячей, а кукол — на 3 меньше. Сколько всего игрушек купили для детского сада?

Вариант 2

1. Выполни действия:

$$12 + 5 \quad 19 - 14 \quad 4 + 10$$

$$20 - 10 \quad 6 + 7 \quad 14 - 9$$

2. Начерти квадрат со стороной 2 см.

3. Сравни:

$$15 \text{ кг и } 12 \text{ кг} \quad 6 \text{ л} + 7 \text{ л и } 14 \text{ л}$$

$$8 \text{ см и } 11 \text{ см} \quad 1 \text{ дм } 5 \text{ см и } 16 \text{ см}$$

4. В пакете было 8 шоколадных пряников, а мятных — на 3 больше. Сколько всего пряников было в пакете?

